




## نمونه سؤالات:

**طراح صنعتی پوشاک مردانه**

**ویژه بازار محور**

**کد استاندارد: ۲۱۶۳۴۰۵۱۰۰۳۰۰۰۱**

معاونت پژوهش، برنامه ریزی و سنجش مهارت  
دفتر سنجش مهارت و صلاحیت حرفه ای



۱- ارگومی یعنی چه؟

الف - به مفهوم تطبیق انسان با ابزار کار

ب - به مفهوم قانون کار

ج - به مفهوم کار

د - به مفهوم ابزار کار

2- جعبه کمک های اولیه در کارگاه به چه کاری آید؟

الف - برای کمک به افراد آسیب دیده

ب - برای جلوگیری از امراض واگیر دار

ج - برای زیبای کارگاه

د - برای خاموش کردن آتش

3- محل نصب جعبه کمک های اولیه در کجاست؟

الف - در جای که کارگاه زیبا می دهد.

ب - در محل دیدار افراد و دوراز گرما و تابش خورشید

ج - نزدیک به سرویس بهداشتی

د - نزدیک به تهویه کارگاه

4- کف کارگاهها بهتر است.....:

الف - با موکت فرش شود.

ب - با قالی فرش شود.

ج - با سرامیک و موزاییک باشد.

د - اهمیت ندارد.

5- اولین اقدام هنگام برق گرفتگی چیست؟

الف - تنفس مصنوعی

ب - قطع جریان برق

ج - ماساژ خارجی قلب

د - تماس به اورژانس

6- هنگامی که شخص دچار سوختگی می شود چه باید کرد؟

الف - مواد روغنی روی سوختگی مالید.

ب - بتادین به زخم بزنیم .

ج - تاول ها را پاره کنید .

د - به اورژانس تماس گرفته و تارسیدن اورژانس خونسردی خود را حفظ کنید .

7- در جعبه کمک های اولیه باید چه وسایلی قرار دهیم.

الف - پماد سوختگی و ضد عفونی و باند، چسب،.....

ب - انواع پارچه در جنس های مختلف

ج - انواع نخ ها و سوزن ،.....

د - انواع چسب ها شیشه ای، چسب مایع ،.....

8- چرا باید وسایل برقی مجهزه سیستم ایمنی ( ارت) باشد.

الف - برای افزایش برق بین دستگاه ها

ب - برای ایجاد برق بین دستگاه ها

ج - برای عمر بیشتر دستگاه ها

د - برای پیشگیری از خطر برق گرفتگی

9- ارتفاع کم و غیر استاندارد بودن نرمی صندلی سبب کدام عارضه می شود؟

الف - درد گرفتن پا

ب - درد گرفتن دست ها

ج - سردرد

د - درد گرفتن کمر

10- نور در یک اتاق کار طراحی باید چگونه باشد؟

الف - نور مهم نیست.

ب - نور زرد باید باشد.

ج - نور باید غیر مستقیم باشد.

د - نورهای رنگی باشد.

11- هنگام نشستن روی صندلی ، زانوها باید در چه وضعیتی قرار داشته باشد؟

الف - زانوی چپ روی زانوی دیگر باشد.

ب - زانوها با کمی فاصله کنار یکدیگر قرار بگیرد.

ج - یکی از پاها روی زانو باشد.

د - زانوها از هم خیلی فاصله داشته باشد.

12- کدام گزینه از اخلاق حرفه ای به شمار می آید؟

الف - ارائه ی رفتار مناسب با همکار

ب - دخالت کردن در امور شخصی مشتری

ج - دخالت در امور زندگی مشتری

د - ارائه ی کارهای غیر حرفه ای

13- زخم و بریدگی در هنگام کار را با چه ماده ای بهتر است ضد عفونی کنیم؟

الف - با آب ژاول

ب - با آب جوش

ج - با چای سرد

د - با بتادین

14- در چه مواقع باید از علائم ایمنی و هشدار دهنده استفاده شود؟



الف - برای تزئین کارگاه

ب - برای جلب توجه و احتیاط افراد

ج - احتیاج به علائم ایمنی نیست

د - برای خالی نبودن کارگاه

15- کاربرد نوک کند (تخت) مداد در چه مواردی است؟

الف - خط های نرم و سایه های ملایم و شفاف کاری

ب - خط های ضخیم

ج - سایه های کلی

د - خطهای پهن

16- دید طراح نسبت به تخته طراحی چگونه باید باشد؟

الف - ۳۵ درجه

ب - ۶۰ درجه

ج - ۵۵ درجه

د - ۴۵ درجه

17- عرض و پهنای باسن معادل..... عرض سر می باشد؟

الف - دو برابر

ب - سه برابر

ج - ۵ برابر

د - ۲,۵ برابر

18- استخوان بندی سر شامل چه استخوان هایی است؟

الف - کاسه سر و جمجمه

ب - استخوان های صورت و فک

ج - کاسه سر و استخوانهای صورت

د - جمجمه و فک

19- استخوان بندی فوقانی شامل چه استخوان هایی است؟

الف - شانه ، ستون مهره ، قفسه سینه

ب - شانه ، بازو ، ساعد و دست

ج - شانه ، دنده ، لگن خاصره

د - شانه ، کتف، دنده

20- ساختمان اسکلت دست شامل چه استخوان هایی است؟

الف - مچ ، آرنج ، کتف و کمر

ب - کف ، بازو، ران و مچ پا

ج - انگشتان دست و انگشتان پا

د - مچ، کف، بازو، ساعد و انگشتان

21- طولی ترین استخوان بدن چه نام دارد؟



الف - مهره ها

ب - ساعد

ج - ساق

د - ران

22- مچ پا شامل چه استخوان هایی است؟

الف - قوزک، بازووزانو

ب - پاشنه ، انگشت دست و پا

ج - قسمت جلوی پاشنه ، ساق و ران

د - قوزک، استخوان مچ و پاشنه قسمت جلوی پاشنه ،

23- مفصل های نیمه متحرک در چه قسمت هایی قرار گرفته اند؟

الف - زانو ها و آرنج

ب - ران و ساق

ج - شانه ، لگن خاصره

د - مچ و قوزک پا

24- کدام قسمت در بین اعضای بدن بیشترین تحرک را دارند؟

الف - انگشت پا

ب - قفسه سینه

ج - شکم

د - کمر

25- عرض دست در قسمت اتصال انگشتان ..... از عرض آن در قسمت اتصال به مچ است؟

الف - بیشتر

ب - کمتر

ج - پهن تر

د - باریکتر

26- از یقه های ایستاده و کمی چسبان دور گردن است و لبه های آن در جلو با دکمه بسته می شود.

الف - یقه ایرانی

ب - یقه انگلیسی

ج - یقه شال

د - یقه گرد

27- سه روش اصلی برای ایجاد ارتباط با شکل یقه عبارت اند از.....

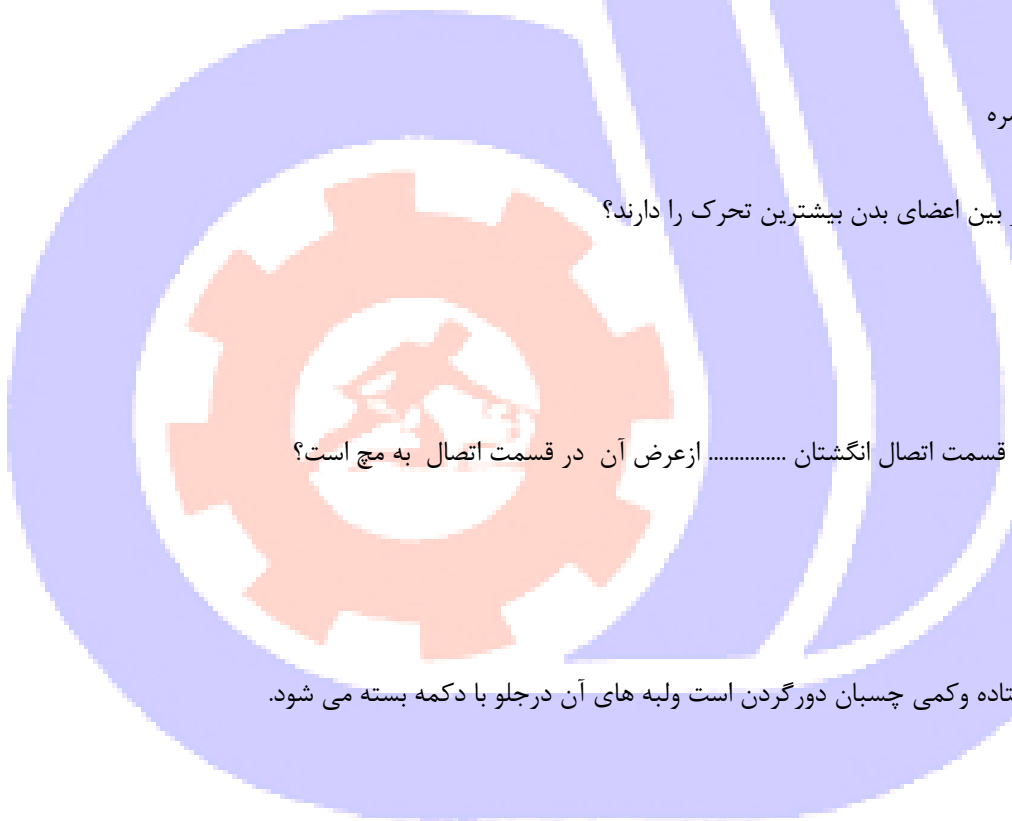
الف - تکرار، تضاد و خطوط انتقال

ب - مشابه، خطوط زاویه دار ،

ج - خطوط ثابت ، تکرار

د - خطوط انتقال ، مشابه

28- این یقه برای صورت کشیده و گردن باریک و استخوانی مناسب تر است و بالاتنه را بلندتر نشان می دهد.



الف - یقه چینی (ایستاده)

ب - یقه خشت

ج - یقه بیضی

د - یقه هفت

29- فرم کدام از اندام ها بیشتر برای آقایان می باشد؟

الف A - اندام مثلث

ب H - اندام جعبه ای

ج V - اندام مثلث معکوس

د O - اندام دایره ای

30- سایز لباس های ورزشی براساس اندازه چه قسمت از اندام می باشد.

الف - دورسینه

ب - دورکمر

ج - کارور

د - دورگردن

31-XL علامت اختصاری کدام سایز می باشد؟

الف - بزرگ

ب - خیلی بزرگ

ج - متوسط

د - کوچک

32- در لباس های زیرنازک، برای درزهای مخفی یقه، مچ،.....سانتیمتر درز در نظر می گیریم.

الف - ۰,۵

ب - ۱

ج - ۱,۵

د - ۲

33- چند نوع دوخت درز برای پیراهن مردانه داریم؟

الف - دونوع درز، درز خوابیده و درز مغزی

ب - دونوع، ساده و درز فرانسوی

ج - یک نوع ساده

د - یک نوع درز خوابیده

34- خطوط افقی که به دلیل حجم استوانهای اندام در ناحیه پشت و جلوی اندام به یکدیگر متصل می شوند به چه شکل می باشد.

الف - به صورت حلقوی دور بدن و سطوح بیضی شکل

ب - به صورت هرمی شکل

ج - به صورت نقطه چین دورانی

د - به صورت مستقیم

35-..... خطی است هم اندازه دید روبروی ناظر به گونهای که با نشستن و برخاستن این خط نیز با دید ناظر جابجا می شود.



الف - خطوط عمودی

ب - خط مایل

ج - خط افقی

د - خط افقی شکسته

36- پارچه چهار خانه درشت به رنگ روشن مناسب ...است.

الف - افراد چاق با پوستی تیره

ب - افراد لاغر اندام که قد بلند دارند.

ج - کسانی که بالاتنه درشت دارند.

د - افراد کوتاه قد هستند.

37- کدام گزینه در مورد خطوط راهنما صحیح است؟

الف - خطوط افقی و عمودی را نمی توان به خطوط مورب تبدیل کرد.

ب - رنگ خطوط راهنما قابل تغییر نیست.

ج - خطوط راهنما را نمی توان مخفی کرد.

د - خطوط راهنما را می توان مخفی کرد.

38- کدامیک از حالت‌های نمایش زیر اشکال را در حالت ایده آل نشان می دهد؟

الف - NORMAL

ب - DRAFT

ج - WIREFRAME

د - ENHANCED

39- برای نگه داشتن کدام شیء هم زمان در جهت عمودی و افقی مایل می شود؟

الف - CTRL

ب - ALT

ج - SHIFT

د - CTRL + SHIFT

40- نگه داشتن کدام کلید هنگام رسم ، چهار ضلعی را به مربع تبدیل می کند؟

الف - SHIFT

ب - CTRL

ج - ALT

د - ALT+ CTRL

41- چه عملیاتی را می توان روی کادر متن پاراگرافی انجام داد ؟

الف - چرخاندن

ب - مایل کردن

ج - تغییر اندازه

د - تغییر اندازه و چرخاندن و مایل کردن

42- برای انتخاب یک شیء در گروه از کدام کلید استفاده می شود؟



الف - ALT

ب - CTRL

ج - SHIFT

د - امکان پذیر نیست.

43- کدام گزینه ترتیب قرارگیری اشیای انتخاب شده را معکوس می کند؟

الف - FORWARD ONE

ب - TO BACK

ج - REVERSE ORDER

د - BEHIND

44- کدام گزینه تصویر را با رنگ معکوس چاپ می کند؟

الف - MIRROR

ب - tile

ج - current

د - INVERT

45- کدام یک از گزینه های زیر در مورد محیط PRINT PREVIEW صحیح است؟

الف - مقیاس تصویر را در محیط طراحی تغییر می دهد.

ب - کل تصویر به صورت یک شی انتخاب نمی شود.

ج - موقعیت تصویر را در صفحه چاپی می توان تغییر داد.

د - مقیاس تصویر را در محیط طراحی تغییر نمی دهد.

46- پسوند اصلی فایل های CORELDRAW چیست؟

الف - CMX

ب - CDR

ج - BMP

د - PSD

47- کدام یک از گزینه های زیر برای وارد کردن فایل به محیط CORELDRAW به کار می رود؟

الف - OPEN

ب - IMPORT

ج - SAVE AS

د - EXPORT

48- دافل کت چیست؟

الف - کاپشن

ب - پالتوی کلوش

ج - اورکت

د - پالتو

49- کدام یک از یقه های زیر جزء یقه ایستاده است؟



- الف - یقه برگرد آمریکایی جدا - یقه انگلیسی چهار دکمه  
 ب - یقه آرشال با پایه - یقه انگلیسی مردانه - یقه شکاری  
 ج - یقه برگرد آمریکائی جدا - یقه انگلیسی چهار دکمه  
 د - یقه ایستاده ساده بدون پایه - یقه برگرد - یقه پیراهن مردانه  
 50- با اصلاح الگوی کت سینه دار مردانه چه مشکلی برطرف می شود؟

- الف - توی یقه جلو آمده و نوک سرشانه بلندتر می شود.  
 ب - توی یقه عقب رفته و نوک سرشانه کوچکتر می شود.  
 ج - توی یقه جلو آمده و نوک سرشانه بلندتر می شود.  
 د - توی یقه جلو آمدنه و نوک سرشانه کوچکتر می شود.

51- کدام قسمت از کت نیاز به لایه چسب دارد؟

- الف - سجاف - کمر - دهنه جیب - یقه  
 ب - پشت کار - سجاف - یقه  
 ج - کمر و آستر کمر - دهنه جیب - یقه - سجاف - پیش کار  
 د - آستر کمر - پشت کار - جلوی کار  
 52- پهنای نقاب (درب جیب کت) طبق استاندارد چند است؟

- الف - ۵,۵ سانت  
 ب - ۴,۵ سانت  
 ج - ۶ سانت  
 د - ۵ سانت

53- برای تنگتر شدن حلقه آستین جلیقه چه عملی را روی الگو پیاده می کنیم؟

- الف - ۲ سانت از درز پهلو بالا می رویم  
 ب - ۱ سانت از درز پهلو بالا می رویم  
 ج - ۰,۷۵ سانت از گودترین جای حلقه می گیریم  
 د - ۱ سانت از سرشانه حلقه پائین می آییم

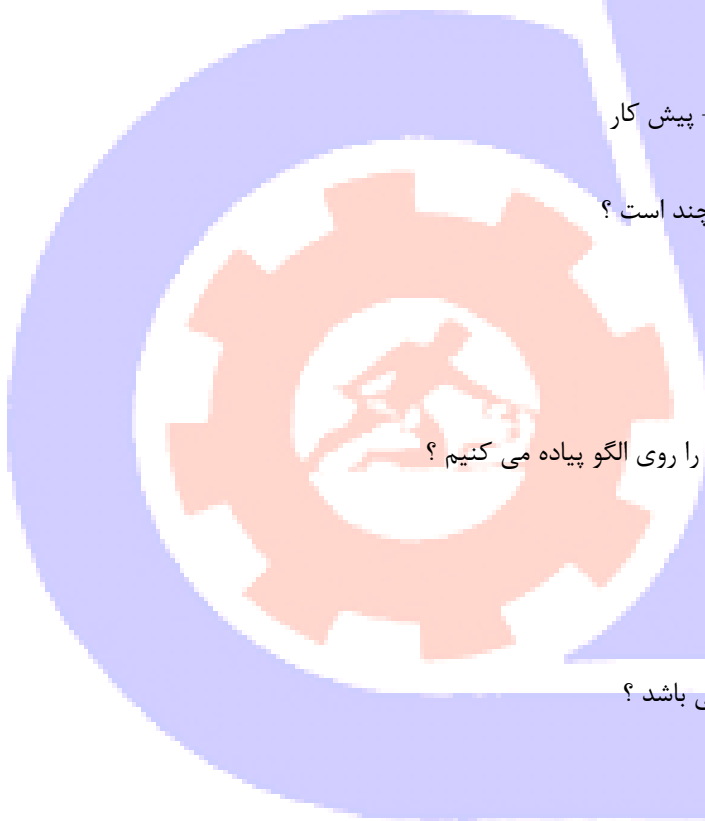
54- طول جیب پایین جلیقه شکم دار چند سانت می باشد؟

- الف - ۱۰ سانت  
 ب - ۱۳ سانت  
 ج - ۱۱,۵ سانت  
 د - ۱۲,۵ سانت

55- در صورتی که عرض آستری ۱۲۵ سانت باشد یک کت معمولی به چه مقدار آستری نیاز دارد؟

- الف - ۳ قد آستر  
 ب - ۲ قد آستر  
 ج - ۱,۵ قد آستر  
 د - ۲,۵ قد آستر

56- خط طرح چیست؟



الف - خط گشاد شده گردن را خط طرح گویند.

ب - تا خوردگی یقه را خط طرح گویند.

ج - خطی است که به گردن دوخته می شود.

د - خط خارجی یقه با خط برگردان یقه روی لباس

57- کدام قسمت از آستری کت نیاز به گشادی بیشتری دارد؟

الف - وسط پشت و حلقه آستین

ب - حلقه آستین و پهلوها

ج - پهلوها و سرشانه

د - حلقه و سرشانه

58- در حلیقه کلاسیک پهنایی ساسون چند سانتی متر است؟

الف - اصلا ساسون ندارد.

ب - ۲ سانتی متر

ج - ۳ سانتی متر

د - ۱,۵ سانتی متر

59- اتصال نوار چه تاثیری می تواند در کت و پالتو داشته باشد؟

الف - برای برگردان گوشه یقه بی تاثیر نیست.

ب - باعث کش آمدن طوق گردن می شود.

ج - مانع از کش آمدن جلوی کت می شود.

د - تاثیری در کت ندارد.

60- برای شکل دادن و تنگ کردن کمر رسمی چه عملی را روی الگومی توان پیاده کرد؟

الف - از خط مرکزی پشت مقداری می گیریم .

ب - از ساسون جلو به مقدار نیاز کم می کنیم .

ج - از پهلوهای پشت و جلو مقدار ساسون را بیشتر می کنیم .

د - از ساسون پشت به مقدار نیاز ساسون می گیریم

61- انواع جادکمه .....

الف - مادگی با دست

ب - چرخ صنعتی

ج - پارچه ای و چرخ صنعتی

د - مادگی با دست - چرخ صنعتی - پارچه ای

62- برای زیباتر نشان دادن خط سرشانه از کدام گزینه استفاده می شود؟

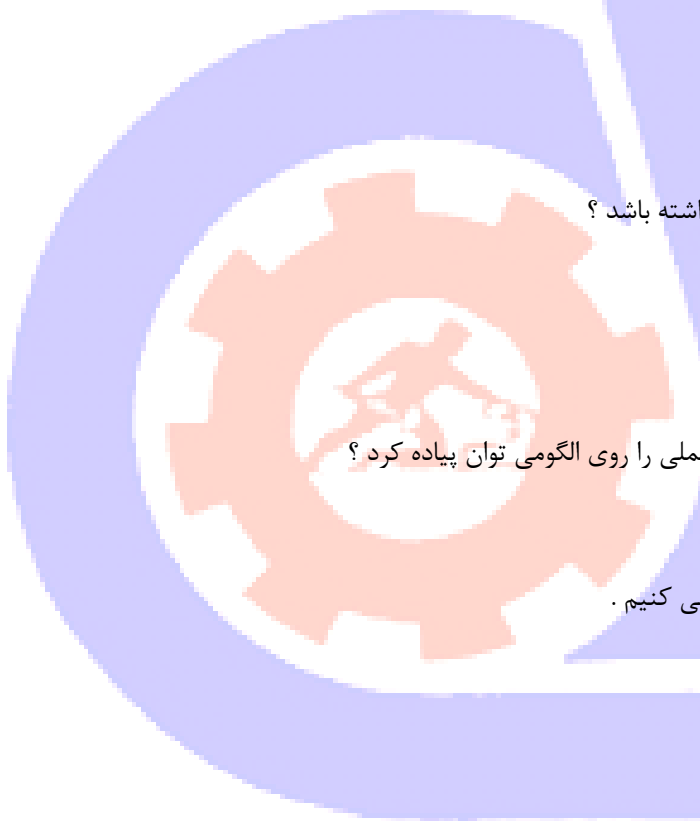
الف - از اپل بزرگ با قطر بزرگ

ب - از اپل کوچک با قطر زیاد

ج - از اپل بزرگ با قطر کم

د - از اپل کوچک با قطر کوچک

63- جهت اتوی فاق شلوار:



- الف - میز اتو  
ب - ولولورت  
ج - اظیاره  
د - بالشتنک بیضی
- 64- برای کمری شلوار مردانه از چه نوع لایی بهتر است استفاده کنیم؟

- الف - نوار لایی برتل دار  
ب - کرسله  
ج - لایی حریر و کاغذی  
د - لایی پرشین

65- در شلوار مردانه آستر جیب بهتر است از چه جنس باشد؟

- الف - کرپ و نخعی  
ب - آستری و پارچه خور شلوار بصورت دابل  
ج - ململ و پارچه شلواری چلوار  
د - هر سه مورد

66- زیپ در شلوار مردانه کدام سمت است؟

- الف - سمت راست  
ب - سمت چپ  
ج - سمت راست در شلوارهای مجلسی  
د - سمت چپ در شلوارهای اسپرت

67- برای شلوارهای مردانه کدام پارچه ها بهتر است؟

- الف - کرپ - گاباردین  
ب - کرپ - گاباردین - فاستونی  
ج - انواع فاستونی  
د - هر سه مورد .


68- در قسمت پشت شلوار بهتر است از چه جیبی استفاده شود؟

- الف - جیب فیلتاب مخفی  
ب - جیب فیلتاپ یکطرفه و دوطرفه  
ج - جیب جاسازی  
د - جیب فیلتاپ یکطرفه

69- در شلوار لی مردانه کدام جیب در قسمت جلو شلوار بهتر است؟

- الف - جیب کراس  
ب - جیب آلمانی  
ج - جیب فیلتاب  
د - هر سه مورد

70- چرخ خیاطی الیک به چه منظور است؟



الف - برای جیب فیلتاپ

ب - برای مقاوم سازی گوشه های جیب های داخلی

ج - برای مقاوم سازی گوشه های داخلی جیب داخلی و پشت شلوار

د - این دستگاه کامپیوتری است

71- میز مکش برای چه کارگاه هایی قابل استفاده است ؟

الف - کارگاه های کوچک خانگی

ب - کارگاه های تولیدی

ج - کارگاه های مانند دوزی

د - برای کارگاه های تولید کت و شلوار الزامی است

72- دستگاه فیوزینک ..... لازم است .

الف - برای اتوکشی و فیکس کردن لایی روی کار

ب - برای اتوکشی و چسباندن لایی کاغذی در سجاف

ج - برای دوخت پارچه های خاص

د - برای دوخت و اطو پارچه های کت و شلوار

73- برای دوخت مارک های داخل کت و از کدام گزینه زیر استفاده می کنید .

الف - چرخ دکمه دوز

ب - چرخ خیاطی سردوز

ج - چرخ خیاطی هفت و هشت

د - چرخ خیاطی الیک

74- جهت جلوگیری سخورمه شدن دستگاه فیوزینک به کدام گزینه باید عمل کنیم .

الف - دستگاه را به صورت ثابت نگه داریم تا حرارت کاهش یابد .

ب - دستگاه را به صورت متحرک نگه داریم تا حرارت کاهش یابد .

ج - دستگاه را به صورت ثابت نگه داریم تا حرارت افزایش یابد .

د - دستگاه را به صورت متحرک نگه داریم تا حرارت افزایش یابد .

75- ..... برای زیبایی داخل کار روی لبه آستر معمولاً مخالف کار استفاده کند .

الف - چرخ خیاطی شلال

ب - چرخ خیاطی بانگو

ج - چرخ خیاطی سردوز

د - چرخ خیاطی راسته دوز

76- ..... فقط در لبه یقه کت و لبه پایینی کت استفاده می شود .

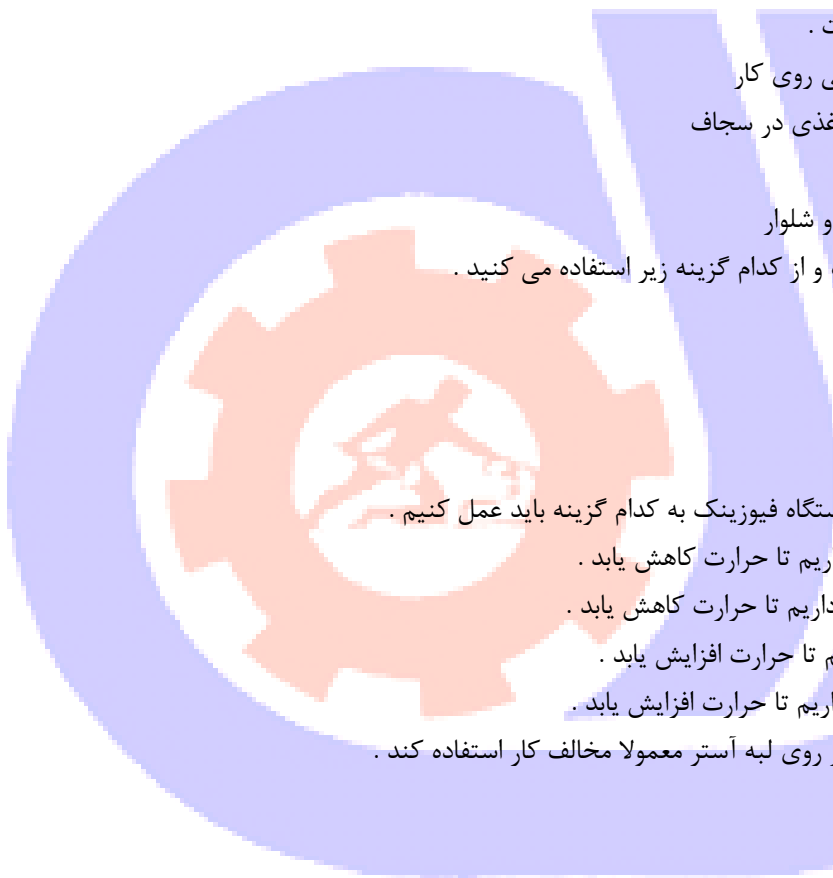
الف - چرخ خیاطی شلال

ب - چرخ خیاطی بانگو

ج - چرخ خیاطی سردوز

د - چرخ خیاطی راسته دوز

77- پارامترهای محور داخلی نرم افزار الگو چیست ؟



الف -زاویه - طول

ب -زاویه طول محور

ج -زاویه محور خطوط

د -طول - محور - خطوط

78- برای سایز بندی یک مدل چه کارهایی باید انجام داد ؟

الف -ابتدا باید مجموعه را تعریف کرد و با اسامی خارج سایز

ب -از اسامی قراردادی سایز استفاده کرد .

ج -ابتدا مجموعه را تعریف و سپس اسامی قراردادی مثل ۴۲ و ۴۴ و ۴۰ - S.M.L.XL

د -ابتدا مجموعه را تعریف و هر سایز را با اسامی خارجی و شماره قراردادی آن جایگزین کرد .

79- مراحل ایجاد الگو را توضیح دهید :

الف -ایجاد عملیات هندسی و پیشبرد کار طراحی نقطه ای

ب -آماده سازی یک جدول سایز و ایجاد عملیات هندسی در طراحی نقطه ای

ج -آماده سازی یک جدول سایز و ایجاد عملیات هندسی و طراحی الگو گام به گام با تنظیم و زاویه

د -آماده سازی - عملیات محوری - عملیات زاویه

80- عملیات استفاده در عملیات طراحی :

الف -کنترل ، نقطه ، خط ، محور

ب -نقطه ، خط ، دایره ، نقطه کنترل

ج -نقطه ، خط ، محور داخلی ، نقطه مرکزی ، دایره

د -هرسه مورد

